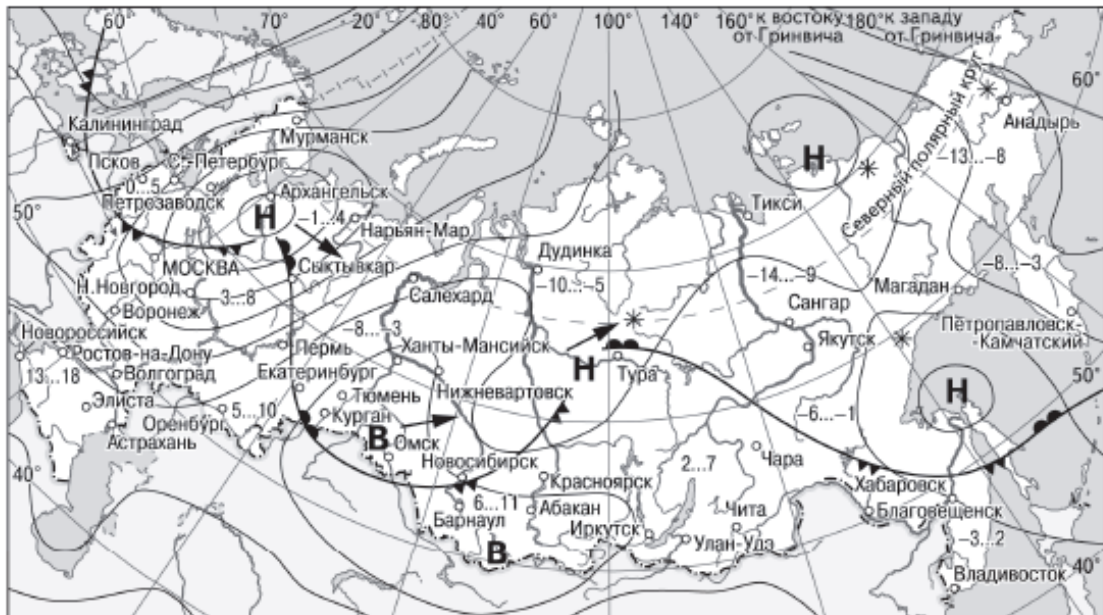


МКОУ «Жоршуновская СОШ». География
Задания 5. Географические явления и процессы в геосферах
Вариант 1

Задание 5, № 1. Какой из перечисленных городов, показанных на карте, находится в зоне действия антициклона?

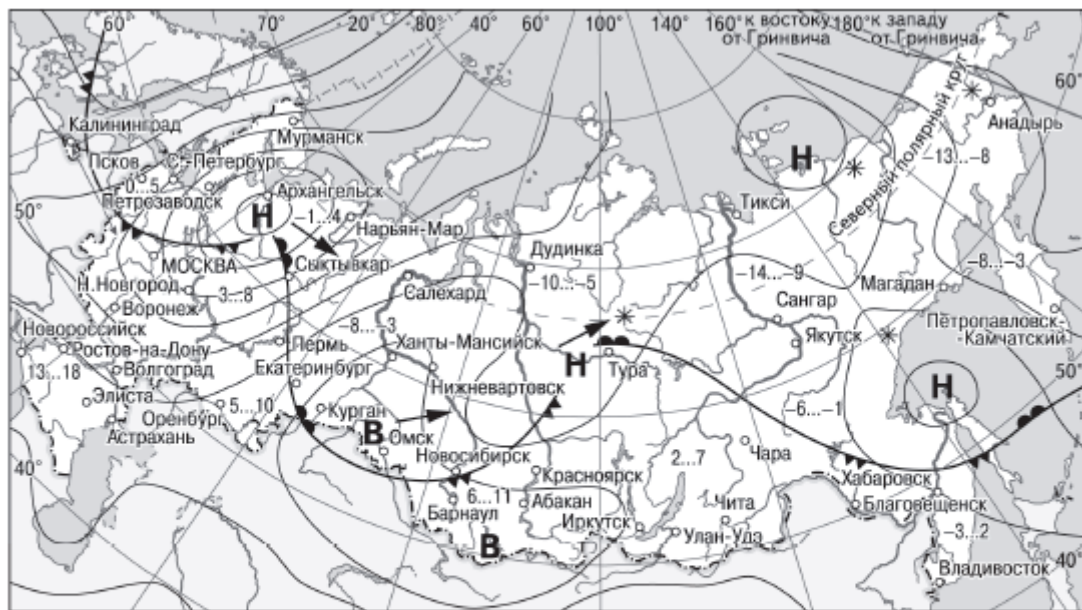


- | | | | |
|----------|---|--------|----------------------------|
| В | Область высокого атмосферного давления | | Тёплый атмосферный фронт |
| Н | Область низкого атмосферного давления | | Холодный атмосферный фронт |
| | Направление перемещения циклонов и антициклонов | -3...2 | Температура воздуха (°C) |
| | | * | Снег |

решуегэ.рф

- 1) Архангельск 2) Омск 3) Магадан 4) Якутск

Задание 5, № 2. Какой из перечисленных городов, показанных на карте, находится в зоне действия циклона?



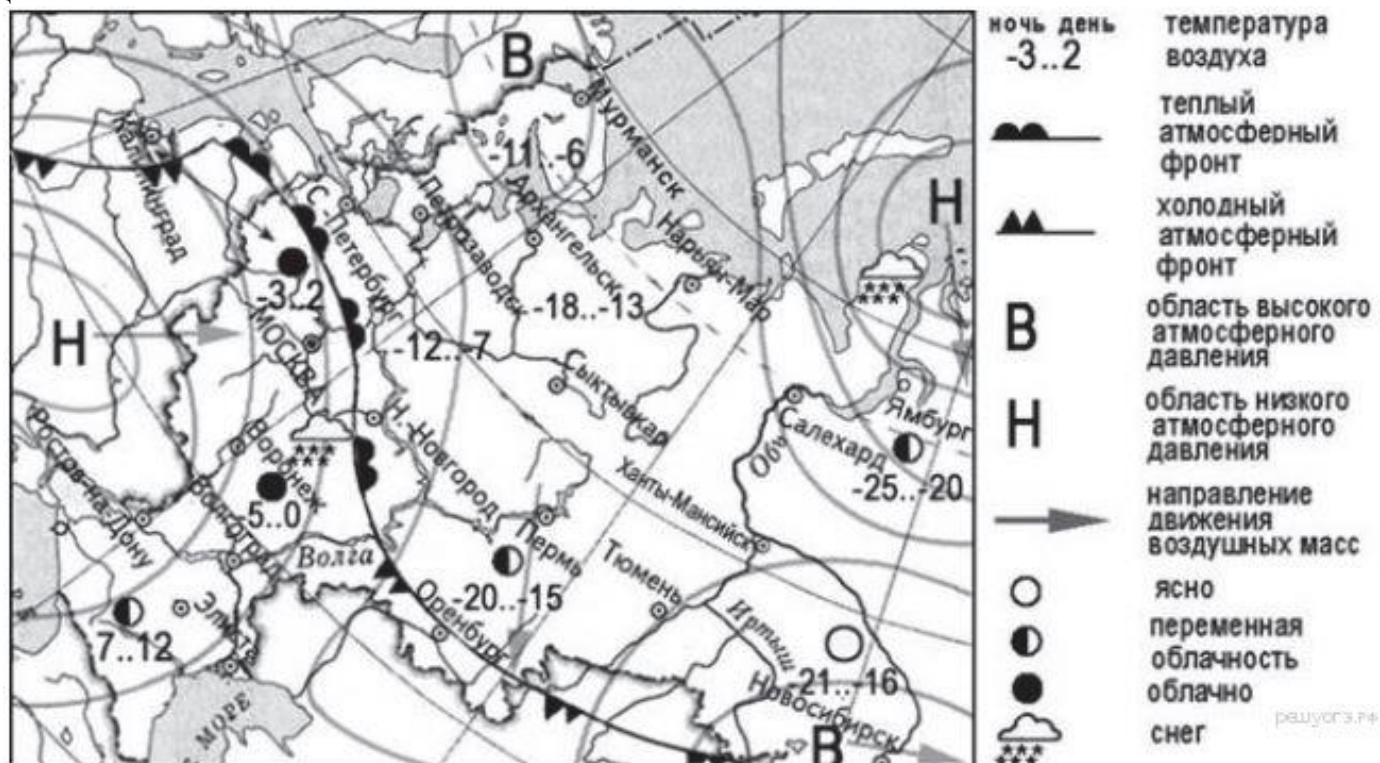
- | | | | |
|----------|---|--------|----------------------------|
| В | Область высокого атмосферного давления | | Тёплый атмосферный фронт |
| Н | Область низкого атмосферного давления | | Холодный атмосферный фронт |
| | Направление перемещения циклонов и антициклонов | -3...2 | Температура воздуха (°C) |
| | | * | Снег |

решуегэ.рф

МКОУ «Коршуновская СОШ». География

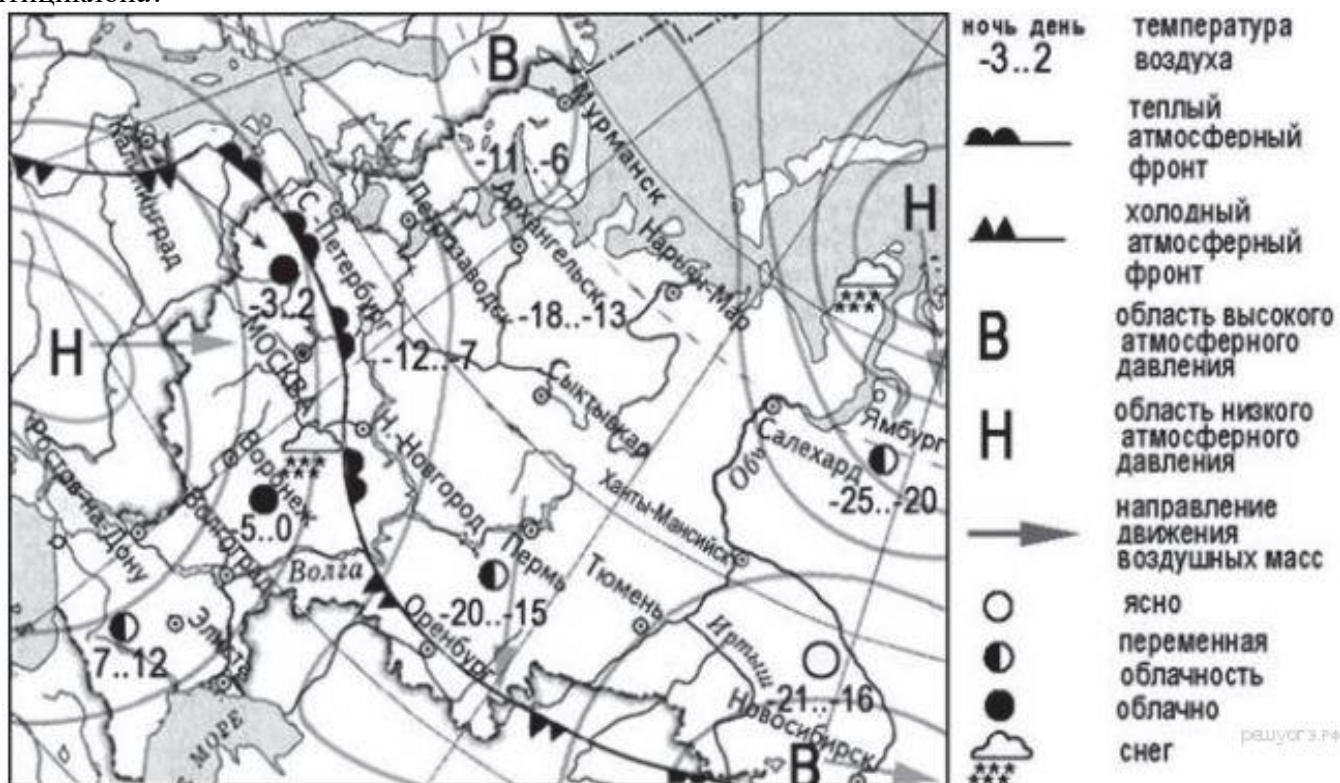
1) Архангельск 2) Омск 3) Новосибирск 4) Иркутск

Задание 5, № 3. Какой из перечисленных городов, показанных на карте, находится в зоне действия циклона?



1) Тюмень 2) Новосибирск 3) Воронеж 4) Мурманск

Задание 5, № 4. Какой из перечисленных городов, показанных на карте, находится в зоне действия антициклона?

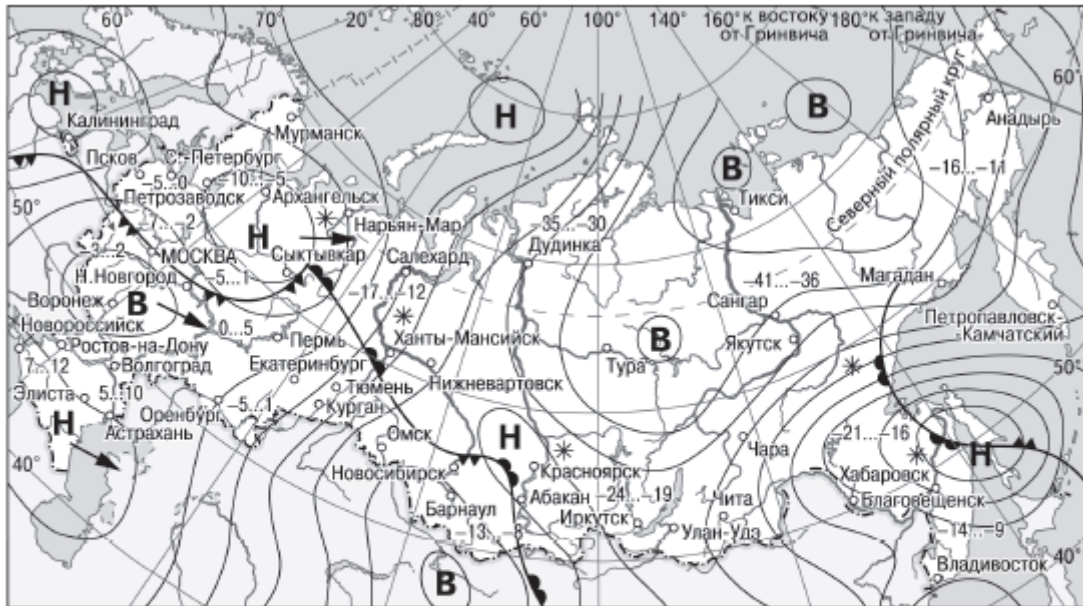


1) Мурманск 2) Ростов-на-Дону 3) Салехард 4) Воронеж

МКОУ «Жоршуновская СОШ». География

Задания 5. Географические явления и процессы в геосферах Вариант 2

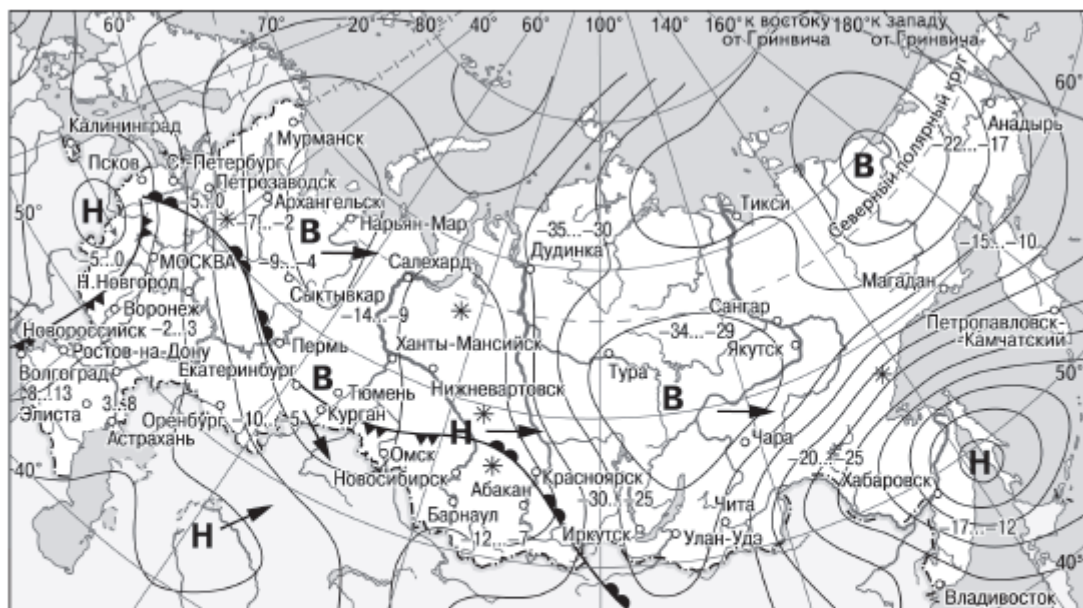
Задание 5, № 1. Какой из перечисленных населённых пунктов, показанных на карте, находится в зоне действия циклона?



- | | |
|---|------------------------------------|
| В Область высокого атмосферного давления | — Тёплый атмосферный фронт |
| Н Область низкого атмосферного давления | — Холодный атмосферный фронт |
| → Направление перемещения циклонов и антициклонов | -35...-30 Температура воздуха (°C) |
| | * Снег |

- 1) Воронеж 2) Тикси 3) Хабаровск 4) Якутск

Задание 5, № 2. Какой из городов, показанных на карте, находится в зоне действия антициклона?

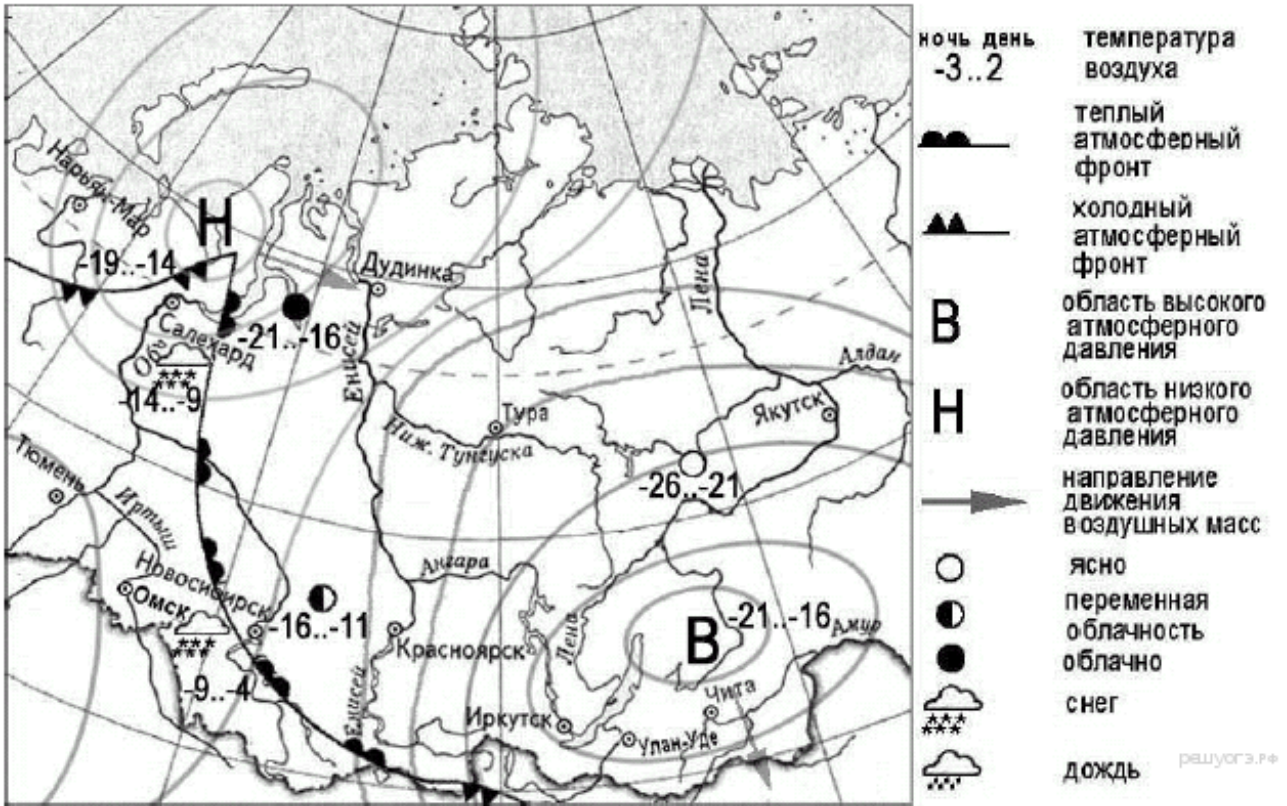


- | | |
|---|------------------------------------|
| В Область высокого атмосферного давления | — Тёплый атмосферный фронт |
| Н Область низкого атмосферного давления | — Холодный атмосферный фронт |
| → Направление перемещения циклонов и антициклонов | -35...-30 Температура воздуха (°C) |
| | * Снег |

МКОУ «Коршуновская СОШ». География

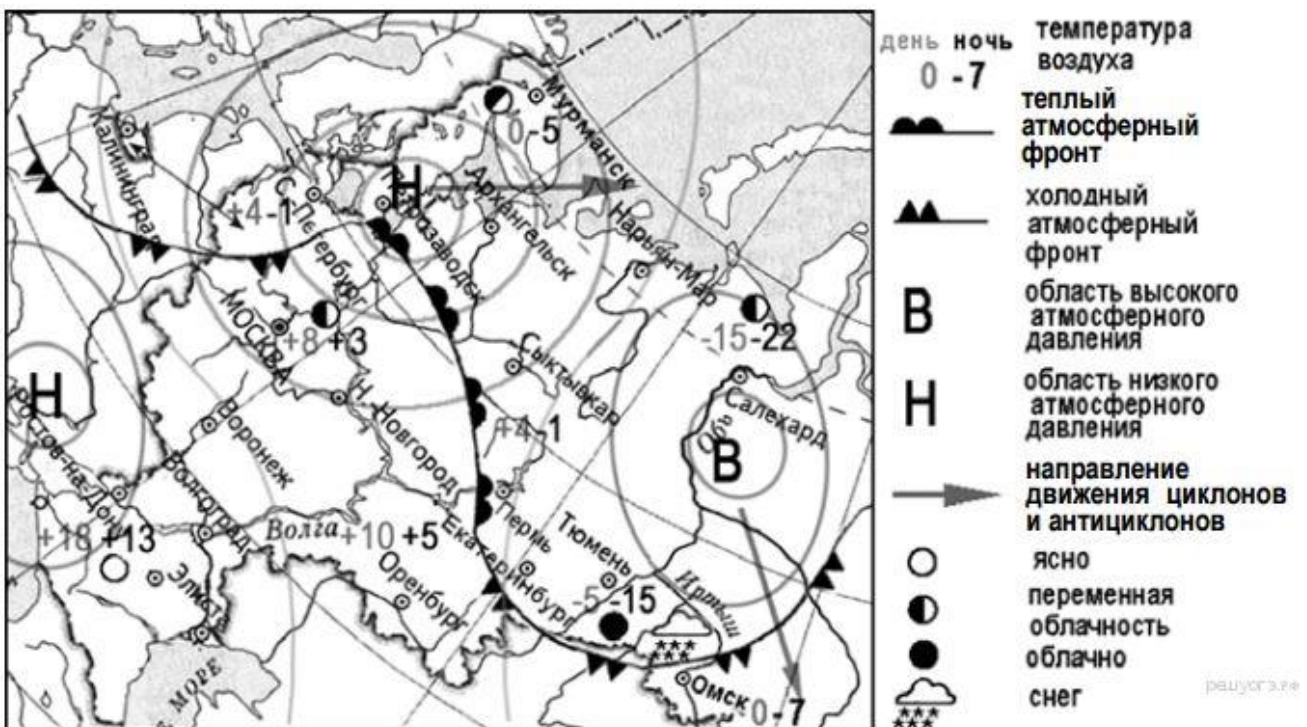
- 1) Нарьян-Мар 2) Псков 3) Москва 4) Хабаровск

Задание 5, № 3. Какой из перечисленных городов, показанных на карте, находится в зоне действия антициклона?



- 1) Дудинка 2) Нарьян-Мар 3) Иркутск 4) Томск

Задание 5, № 4. Какой из перечисленных городов, показанных на карте, находится в зоне действия циклона?



МКОУ «Коршуновская СОШ». География

- 1) Екатеринбург 2) Тюмень 3) Архангельск 4) Омск